

Name: _____

Mathe

Datum: _____

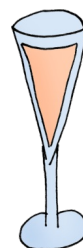
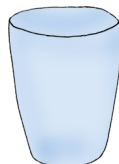

Forscherauftrag - Hohlmaße



Auf vielen Gefäßen ist angegeben, wie viel hineinpasst. Untersuche und schreibe auf.

Beschreibung	Volumenangabe

Ordne richtig zu.



100 ml

200 ml

1 Liter

1 Milliliter = 1 ml

250 ml